
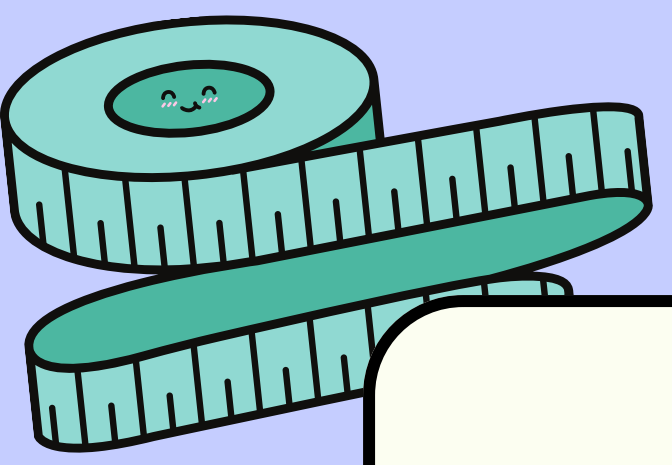


Rallye Maths du M@G Webtv

cycle 3



0

4

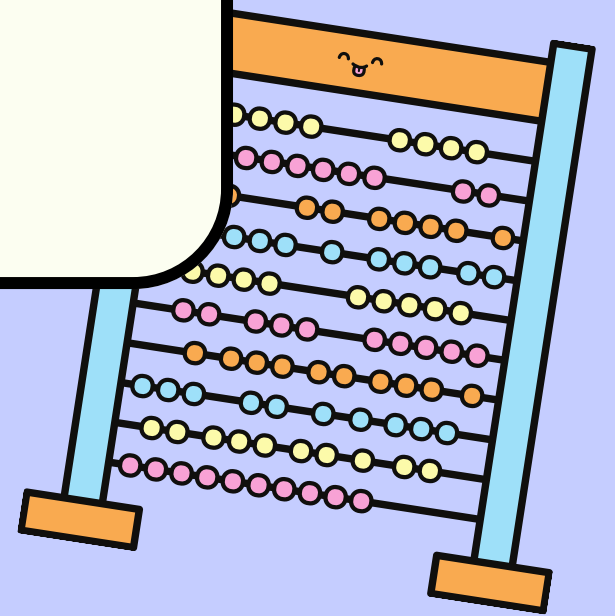

5

6

2

1

3



7

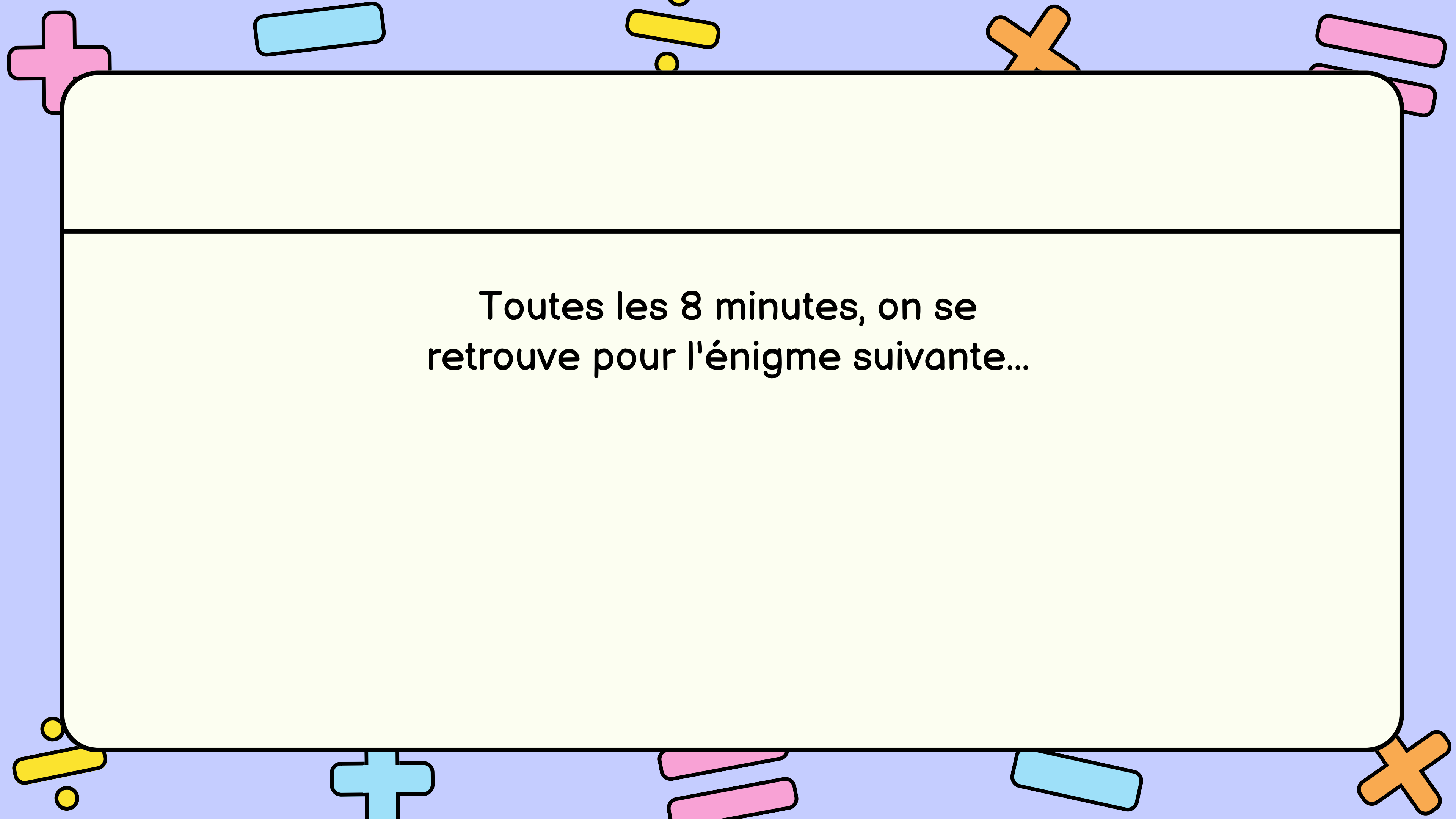
8

9



Prêts?

C'est parti ...



Toutes les 8 minutes, on se
retrouve pour l'énigme suivante...

1

La Fête :

Pour la fête de fin d'année, plusieurs animations sont prévues:

- 15 min de chants
- 1h et 20 min de théâtre
- 35 min de flûte
- 40 min de jeux

Sachant que la fête début à 17h15, à quelle heure se terminera-t-elle?

La fête

Pour la fête de fin d'année, plusieurs animations sont prévues :

- 15 minutes de chants
- 1 heure et 20 minutes de théâtre
- 35 minutes de flûte
- 40 minutes de jeux.

Sachant que la fête débute à 17heures et 15 minutes, à quelle heure se terminera-t-elle ?

Réponse :

EurêkaMaths



A partir de cette façade, combien de carrés, combien de rectangles et combien de triangles peut-on former ?



2

À partir de cette façade:

- combien de carrés
- combien de rectangles
- combien de triangles

Peut-on former ?



3

Dans cette boîte, $\frac{1}{3}$ des chocolats sont à l'alcool. La moitié des autres sont au praliné.



RALLYE MATHS EN-VIE
Semaine des mathématiques 2021

3



Dans cette boîte, $\frac{1}{3}$ des chocolats sont à l'alcool. La moitié des autres sont au praliné.
Combien ne sont ni à l'alcool ni au praliné ?

ACADÉMIE DE CRÉTEIL
Direction des services départementaux de l'éducation nationale de la Seine-Saint-Denis

MISSION 3

LA SEMAINE DES MATHÉMATIQUES

CANOPÉ

Combien ne sont ni à l'alcool ni au praliné?

4



Trouve l'âge de ces 3 petits cochons, sachant que:

- deux de leurs âges ont un nombre entier de dizaines,
- le troisième âge est la moitié de la somme des deux autres,
- la somme des âges est égale au quart de 180.

RALLYE M@THS EN-VIE
Semaine des mathématiques 2021



3

Trouve l'âge de ces 3 petits cochons, sachant que :

- deux de leurs âges ont un nombre entier de dizaines,
- le troisième âge est la moitié de la somme des deux autres,
- la somme des âges est égale au quart de 180.

ACADÉMIE DE CRÉTEIL | Direction des services départementaux de l'éducation nationale de la Seine-Saint-Denis | Missions 93 | LA SEMAINE DES MATHÉMATIQUES | CANOPO

5

J'ai besoin de
238 oeufs.
Combien vais-je
dépendre?

